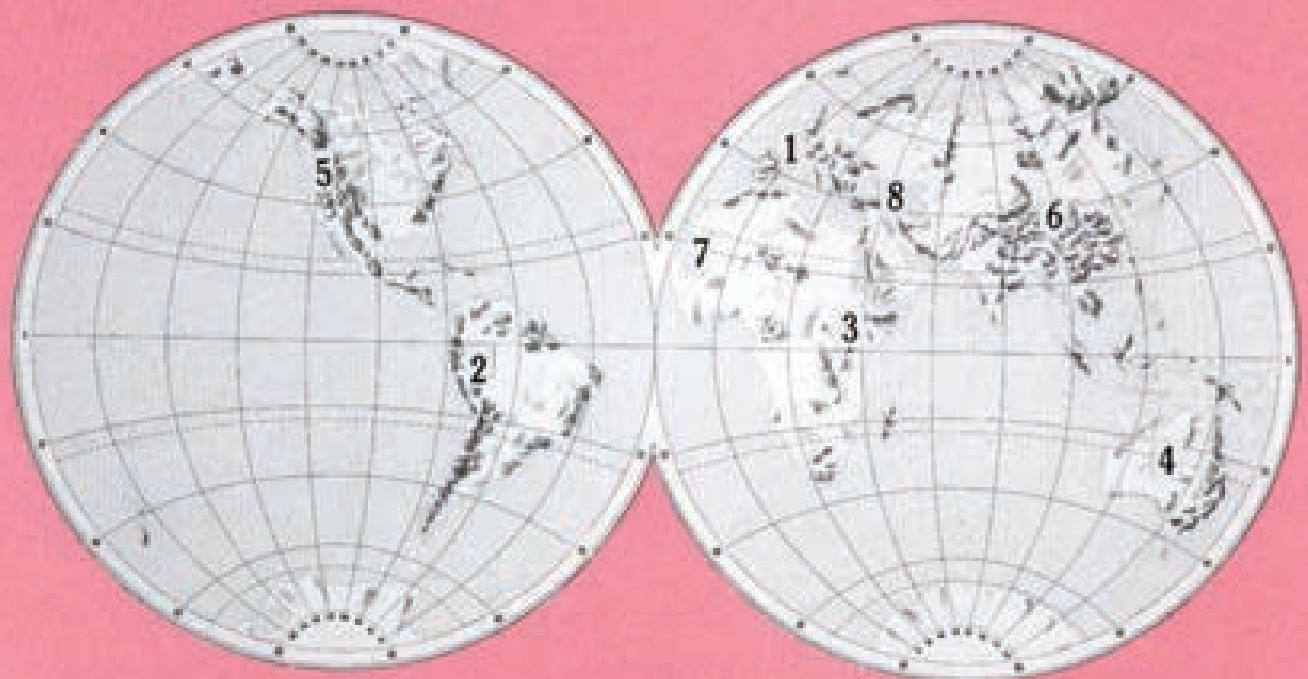


EL MAPA DE LA NOTICIA

Una experiencia para la escuela



* Prensa Didáctica viene desarrollando a través de los Suplementos Educativos publicados en los periódicos «La Voz de Galicia» / «El Correo Español» / «El Pueblo Vasco» / «Heraldo de Aragón» / «Diario de Mallorca» y «Diario de Navarra» una experiencia gráfica de importante relieve para el trabajo con la noticia en clase: «EL MAPA DE LA NOTICIA».

* Consiste en situar en el mapa los sitios de las noticias más interesantes que han sucedido en un tiempo determinado, asignándoles a cada una un número. Luego, a pie de página, se hace referencia a ese número indicando la noticia y ofreciendo con ello una explicación, actividades que se pueden realizar y recursos de los que se puede disponer para trabajar mejor la noticia y estructurar un aprendizaje más amplio.

* Las ventajas didácticas de un «mapa de la noticia» pueden centrarse en los siguientes puntos: visualización de la noticia, temporalización del acontecimiento que dura en la pared de clase lo que se quiera, un núcleo activador para el desarrollo de otras noticias sobre el mismo mapa, aprendizaje directo de la geografía, desarrollo de la imaginación por parte de los alumnos que favorece la orientación espacial, resumen rápido de las noticias más importantes sucedidas en una semana y otras que pueden aplicarse a noticias que suceden cerca del ámbito escolar y que llevan consigo la confección del propio mapa.

* Aportamos aquí tres ejemplos reproduciendo mapas de General Learning Corporation, con indicaciones actualizadas referentes a noticias cercanas que pueden estudiarse en clase.

La peculiar representación del globo terráqueo que aquí puedes contemplar recibe el nombre de Proyección Azimutal de áreas iguales (equivalentes). Sus puntos de referencia son, como puedes observar, los Polos.



A medida que nos distanciamos de cualquiera de los Polos, la distorsión en las formas va incrementándose

1. Canadá

No son muchas las noticias que nos llegan de este vasto país del norte de América, uno de los más ricos del mundo. Dos grandes acontecimientos lo trajeron, de todas formas, a las primeras páginas de los periódicos y a las pantallas de la televisión: primero fue la Exposición Universal de Vancouver, clausurada hace más de un año; y, más recientemente, las Olimpiadas de Invierno que tuvieron lugar en Calgary. La noticia que nos llega ahora es la negociación que se está llevando a cabo con sus vecinos, los Estados Unidos, con el fin de eliminar todas las tarifas y barreras aduaneras entre ambos Estados antes del fin de este siglo. El acuerdo presenta grandes dificultades ya que muchos intereses de ambos lados piensan que tienen mucho que perder en el libre comercio. La opinión pública se muestra mucho más favorable en los Estados Unidos que en Canadá, donde el 50% piensa que éste va a ser el último paso de una total absección económica por parte del vecino del sur, mientras que el otro 50% confía en que, una vez eliminadas las barreras fronterizas los canadienses accederán libremente al inmenso mercado mundial.

2. Laos/Tailandia

La historia de las relaciones entre la República de Laos y el Reino de Tailandia estuvo salpicada en épocas no lejanas de conflictos fronterizos, en los que también participaron sus vecinos vietnamitas. Resultado de esas discrepancias sería el cierre de la frontera y la ruptura de relaciones comerciales entre ambos países en 1983. Sin embargo, las cosas parecían haber mejorado sensiblemente hasta principios de este año, cuando los enfrentamientos renacieron con fuerza. Si múltiples son los factores que pueden derivar en este tipo de conflictos, la problemática recientemente planteada se centra en los siguientes términos: por una parte, Laos teme que las fuerzas insurgentes anticomunistas hayan tomado el país vecino como base; por su parte, Tailandia parece convencida de que las fuerzas opositoras comunistas están íntimamente relacionadas con Laos. Así pues, el conflicto está servido entre estas dos naciones del sudeste asiático, una de las cuales, Tailandia, conmemora el próximo 11 de mayo la adopción de su actual nombre, que en 1949 sustituyó al de Siam.

3. Francia

Durante la última semana del mes de abril, nuestros vecinos franceses vivieron unas jornadas de gran importancia para la futura configuración de su Gobierno. La primera ronda de las elecciones presidenciales arrojó unos resultados bien distintos para unos y otros candidatos, que ya esperan con impaciencia la definitiva jornada del 8 de mayo. Aquí tienes la configuración porcentual de esta primera vuelta: el Partido Socialista alcanzó el 34,58%, el centrista de Chirac el 19,62 y la UDF, que está liderada por Raymond Barre el 16,73%. La extrema derecha, que había obtenido en las elecciones presidenciales de 1974 el 0,76% y en las legislativas de 1986 el 9,80 alcanzó en esta ocasión el 13,91%. El Partido Comunista francés obtuvo el 6,72%, los ecologistas el 3,93 y la extrema izquierda el 2,14. El próximo domingo se celebra la segunda vuelta de las elecciones: frente a frente Mitterrand y Jacques Chirac. Los sondeos de opinión le conceden un amplio margen al actual presidente, pero no habrá más remedio que esperar al resultado de las urnas.

LA NOTICIA

Por otra parte, para respetar la verdadera área de los países, la escala decrece a medida que los radios de latitud se alejan de los Polos



¿Has observado la curiosa posición de España en el mapa? ¿Y el predominio de agua en el hemisferio sur?

4. Islas Comoras

Parece paradójico, o cuando menos curioso, que siendo los centros vitales de la actividad humana las grandes urbes y naciones, sean unas pequeñas islas de apenas 2.000 kilómetros cuadrados de superficie, situadas en las proximidades de Madagascar, las que escondan en sus aguas uno de los secretos más valiosos sobre el origen de las especies. Los sucesivos descubrimientos de ejemplares de celacantos, que desde 1938 han ocupado a los científicos, suponen un avance en la reconstrucción de la cadena evolutiva, a la vez que plantea ciertas controversias. De un lado están los que señalan a esta especie —que se creía extinguida hace unos 70 millones de años— como los antecesores de los primeros animales terrestres. De otra parte, están los que piensan en los peces pulmonados como principal eslabón de la cadena. En cualquier caso, las investigaciones sobre los celacantos avanzan notablemente, pues ya se utilizan computadores en el estudio de los sistemas circulatorio, nervioso, etc., de estos «fósiles vivientes».

5. Argentina

Actualmente, Latinoamérica está viviendo una delicada situación tanto política como económica. Argentina, que trata como otros países de llevar a cabo una reestructuración que saque a flote a la nación, tiene como objetivos básicos declarados, la consolidación de la democracia y la resolución de su grave problema económico. Los obstáculos a superar no son pocos, como se puso de manifiesto a principios de año con la rebelión militar protagonizada por el teniente coronel Aldo Rico. Pero la voluntad de superación parece clara, máxime cuando hace pocas fechas visitaba nuestro país el presidente argentino Raúl Alfonsín, con el objetivo de firmar un tratado de cooperación hispano-argentina. Si las principales concreciones del tratado son en materia económica, lo cierto es que el telón de fondo de estas relaciones hay que buscarlo en la creciente importancia que está adquiriendo España como puente de las relaciones entre Latinoamérica y Europa, como ha subrayado Felipe González: «Estamos abiertos a estudiar la cooperación con otros países y a estimular que esa colaboración se produzca en el ámbito de la CEE».

6. Antártida

La Antártida se ha convertido desde hace mucho tiempo en uno de los privilegiados puntos de encuentro para científicos e investigadores de todo el mundo. Las numerosas exploraciones y trabajos que se efectúan en el denominado «continente helado» tienen una especial trascendencia ante los resultados obtenidos. España ya cuenta con una destacada participación de investigadores, si bien no forma parte del Tratado Antártico, al que aspira acceder como miembro consultivo en poco tiempo. Para ello, se ha iniciado un proyecto para la construcción de un buque oceanográfico que se destinará a los trabajos de investigación en el continente, donde ya contamos con una base permanente. Esta, que recibe el nombre de nuestro monarca, está ubicada en la isla de Livingston, y sirve de centro operacional para las expediciones españolas, las cuales incorporarán a sus medios un completo barco oceanográfico dotado de un laboratorio con los avances tecnológicos más destacados en su campo, que sin duda están a la altura de las investigaciones que se desarrollan en esta región.

1. U.R.S.S.

Comenzaba el mes de noviembre en la Unión Soviética con la celebración de un desfile militar cuyo escenario fue —como en años anteriores— la Plaza Roja de Moscú. La Revolución de Octubre cumplía su 71 aniversario en medio de serios problemas étnico-religiosos en la región de Azerbaijón donde armenios y azerís viven una tensa situación de enfrentamiento que en los últimos días ha ocasionado, al menos oficialmente, cinco muertos.

Por otra parte, también a principios de mes, se anunciaba la decisión tomada por el Kremlin según la cual quedaba suspendida —momentáneamente— la retirada de las tropas soviéticas de Argania. Como recordarán, la URSS se comprometió según los acuerdos de Ginebra a retirar paulatinamente y hasta el 15 de mayo de 1989 los 100.000 efectivos militares establecidos en Argania. No obstante, el avance de la guerrilla islámica rebelde justifica —como así declaraba el viceministro de Exteriores— la detención momentánea de dicha retirada hasta que la situación tanto militar como política se estabilice.

En el área espacial cabe destacar la decisión de imprimir un espíritu comercial a sus vuelos orbitales con la posible inclusión de publicidad en las naves, a fin de reducir el elevado coste de estos vuelos. Asimismo, dos cosmonautas rusos han batido en estos días el récord de permanencia en el espacio que estaba en 325 días y que ahora pretenden establecer en 365 días nada menos.

2. Filipinas

Cuarenta y nueve muertos y casi 400.000 personas sin hogar es el reflejo numérico de la última desgracia que asoló el archipiélago filipino. Durante los primeros días de noviembre, el tifón, de nombre «Skip», dejó su desolador rastro por las provincias del sur y centro de las Filipinas para luego proseguir camino hacia el mar del sur de China. Dos días después, el 21 de noviembre, se cumplían los primeros 1.000 días de Cory Aquino como presidenta. Casi tres años en el poder al que accedió tras el derrocamiento de Ferdinand Marcos en febrero de 1986, y que han supuesto un cambio radical para el país, al cual pretende encauzar por senderos democráticos. Sin embargo las dificultades eran muy importantes al comienzo de su mandato pues la situación económica rezaba la bancarrota y el peso de dos décadas de dictadura, tanto política como socialmente, era indudablemente elevado. Cinco han sido los golpes de Estado que ha debido superar su gobierno, al que además le caben logros destacados como la convocatoria de las primeras elecciones presidenciales y municipales en 20 años, o la reforma del poder judicial dotándolo de la independencia que no tenía, por citar algún ejemplo. Sin embargo, la situación sigue presentándose problemática para esta mujer de 55 años de la que muchos observadores políticos dudaron cuando asumió las riendas del país.

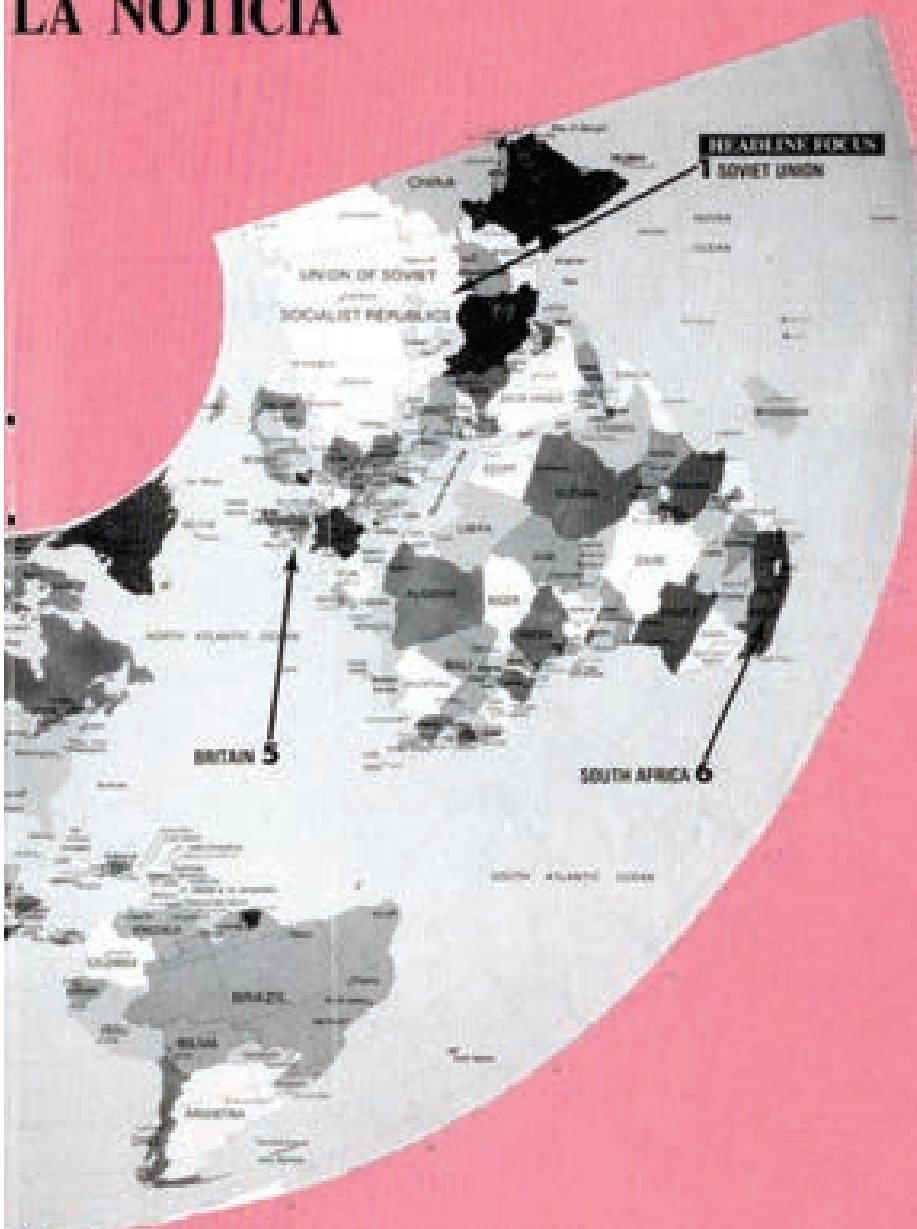
3. China

El mes de noviembre en China estuvo marcado por el signo de la desgracia. El día 6 de dicho mes se registraba en la región sur de China un terremoto que provocaría la muerte de al menos 600 personas. La magnitud del sismo medido en la escala Richter fue de 7,6 grados, lo cual es bastante elevado (la escala contempla hasta nueve grados) pudiendo ocasionar miles de víctimas si se produce en zonas urbanas o de gran número de habitantes. Basta recordar el terremoto registrado hace 10 años también en una región de China —concretamente en la región de Tangshan al noroeste del país— cuya intensidad fue de 7,8 grados y produjo la muerte a unas 242.000 personas. Pocos días más tarde en la región noroccidental de Quinghai, en zona montañosa, se registraría un nuevo sismo, en esta ocasión de 6 grados en la escala Richter y que por el momento se desconoce si ha ocasionado víctimas mortales o daños materiales.

4. Estados Unidos

Sin duda, la noticia del mes de noviembre en los Estados Unidos no es otra que la elección de George Bush como sucesor de Ronald Reagan en la presidencia del país. En medio de un ambiente de expectación mundial asintónico al final del periodo «reagan» que duraba ya ocho años, y al comienzo de la era «bush». Y si algo ha trascendido tras la elección del nuevo presidente desde los corrillos de observadores políticos es la idea de que las directrices de la nueva política republicana serán una continuación de las establecidas por Reagan; se ha llegado a definir la futura etapa presidencial como un «reaganismo» sin Reagan. En este sentido no han faltado los que han cuestionado el curso posible de Bush, debido fundamentalmente al especial carisma o estilo político del antiguo presidente y que no presenta el presidente electo. En cualquier caso el tiempo y los hechos habrán de confirmar las expectativas de unos y otros.





5. Nicaragua

Decíamos al hablar del nuevo presidente norteamericano que se supone vaya a seguir las líneas de su predecesor Ronald Reagan. Pues bien, por lo que respecta a Nicaragua todo parece indicar que, en efecto, así sea. Hace tan sólo unos días se daba a conocer por parte de la «contra» nicaragüense una carta de George Bush en la que afirma apoyar firmemente la lucha que mantiene la «resistencia democrática». Dicha carta ha sido acogida por parte de la «contra» como una prueba del compromiso del nuevo presidente estadounidense, en tanto que Daniel Ortega, presidente de Nicaragua, anunciaba la suspensión del estado de emergencia declarado en el país el pasado mes de octubre. Como recordará, Nicaragua sufrió a mediados de octubre el puño del huracán «Juana», que dejó tras de sí más de 130 muertos, y unos 300 heridos y desaparecidos, además de daños estimados en 825 millones de dólares. Entretanto, la situación grave que viven hoy tanto Nicaragua como el resto de los países centroamericanos, ha obligado a los gobiernos a potenciar un relanzamiento de los acuerdos de Esquipulas para la pacificación de Centroamérica.

6. Gran Bretaña

La noticia que recogemos este mes de Gran Bretaña se refiere al ámbito escolar y en él debería quedarse por aquello de que «los trapos sucios es mejor lavarlos en casa». Resulta que según una encuesta realizada por Mori entre más de trescientos profesores ingleses de enseñanza primaria y secundaria, son muchos los docentes que desconocen sencillas preguntas de geografía, de matemáticas o de historia, que harían enorgullir a cualquier alumno de EGB. Por ejemplo, sólo el 20% de los señados profesores dio una respuesta acertada de cuál era la capital de Polonia; el 27% no sabía que Bonn es la capital de Alemania Federal. Aunque parece increíble, el 11 por ciento de los educadores no sabía que un metro tiene mil milímetros y el 13% de los profesores de matemáticas que contestaron a la encuesta fallaron al calcular el 15% de 10 libras esterlinas.

7. Sudáfrica

Sudáfrica es hoy en día un país marcado por el racismo. Las noticias que habitualmente aparecen en la prensa referidas a este país son claro reflejo de las graves violaciones de los derechos humanos cometidos por el Gobierno sudafricano.

Nada menos que 109 es el número de personas ahorcadas en lo que va de año, y 292 las que están condenadas a muerte. El pasado mes fueron ejecutados seis condenados a muerte, a la vez que se condenaba a cuatro líderes del movimiento antiapartheid por ser «culpables de traición». Paralelamente, y en aras de mejorar la de por sí deteriorada imagen gubernamental cara al exterior, fueron liberados dos dirigentes negros antirracistas que estaban encarcelados desde hace unos 10 años bajo sendas condenas de 15 años de prisión para uno de ellos, y cadena perpetua para el otro, por sus actividades políticas. Asimismo el presidente Botha concedería el perdón a los denominados «seis de Sharpeville» condenados a muerte en diciembre de 1985, en medio de una oleada internacional de protestas por las irregularidades en el juicio, donde no se demostró fehacientemente la culpabilidad de los acusados.

La proyección

De nuevo vamos ante ti una proyección del globo terráqueo un tanto peculiar. Es la denominada Proyección cónica Albers de áreas equitativas. Entre las peculiaridades de esta representación cabe destacar que las merididianas son líneas rectas convergentes hacia el eje polar. Por su parte, los paralelos son circunferencias concéntricas y cóncavas respecto al polo, y cuyos espacios intermedios van decreciendo a medida que nos acercamos a los polos. Asimismo, si mediremos las intersecciones entre merididianas y paralelos, veremos que forman ángulos casi rectos. En cuanto a las áreas del mapa, son proporcionales a las áreas por lo que es un tipo de proyección muy utilizada para obtener una orientación exacta en la representación de las grandes superficies.

N. Pérez de los Heros

— La proyección utilizada en la representación de este mapa recibe el nombre de «proyección sinusoidal», y es particularmente utilizada para realizar comparaciones entre áreas. En este caso nos aproxima a la relación entre las verdaderas áreas de los países del mundo, propósito que conlleva por otra parte, la distorsión de las auténticas formas de aquellos (Distribuido por la General Mapping Corporation).



1. Sudáfrica

Habitualmente las noticias que nos llegan con más frecuencia sobre Sudáfrica, hacen referencia a enfrentamientos, protestas o muertes cuyo telón de fondo es el «apartheid». Día a día se denuncian desde los foros internacionales la demigrante situación social que vive y perdura ya desde hace 40 años. Hace tan sólo unos días, el pasado 19 de mayo, se cumplían cuatro décadas en el poder del Partido Nacional, que actualmente gobierna el país, y que no es representativo más que de la porción de «afrikanners» blancos que desde entonces, y en virtud de su capacidad de voz y voto los han mantenido en el Gobierno. Por contra, los más de 20 millones de negros a los que habría que unir otras minorías raciales, sigue viviendo en la separación de razas que hace 40 años instituyó legislativamente el Gobierno de Daniel Malán tras su victoria con el Partido Nacional. Leyes como la abolida en 1986 «Ley de Pasos», o la «Ley de Áreas de Grupos», sólo han contribuido a fortalecer una compleja división interracial traducida hasta en lo más mínimo en la dinámica social, económica, cultural y por supuesto, política del país.

Como contrapunto a las malas noticias a las que nos hemos referido, aparecía hace pocas fechas en algún periódico la noticia de un nacimiento. Dicho así, parece no tener relevancia alguna, sin embargo, si decimos que tuvo lugar en un Parque de serpientes cercano a Pretoria, ya parece tener nuevos tintes la noticia. En efecto, el hecho es el nacimiento de un ejemplar de lagarto venenoso único en el mundo, y que se produce por primera vez en Sudáfrica. Este saurio, conocido como monstruo Gila y que puede encontrarse en zonas desérticas de EE UU goza, de momento, de los cuidados necesarios para su desarrollo. Por cierto, ¿recuerdas a qué familia pertenece este tipo de animales?, ¿y sus características? Un tema interesante para tratar en la clase puede ser el nacimiento y desarrollo de los animales en cautividad. ¿Qué sabes acerca de esto?

2. Estados Unidos

Hace tan sólo una semana saltaba a las páginas de los periódicos la siguiente noticia: «Cincuenta indocumentados (40 mexicanos y 10 salvadoreños) rescatados en los Estados Unidos de un vagón de tren cuando se estaban asfixiando». Este suceso que a punto estuvo de terminar en tragedia viene a engrosar la numerosa lista de inmigrantes que tratan de entrar ilegalmente en los EE UU. De hecho y hace menos de un año, ocurría un suceso similar que se saldó con la muerte por asfixia de 21 mexicanos, y también en un vagón de tren, y por los mismos motivos.

Paralelamente se venía desarrollando en el último año un programa de amnistía para los inmigrantes indocumentados en Estados Unidos, que supuso un gran paso en la reforma de la Ley de Inmigración, si bien el plazo concedido para esta amnistía finalizaba a principios del pasado mes. El resultado de la misma arrojó la cifra de 1,3 millones de extranjeros que solicitaron legalizar su situación, a pesar de lo cual las estimaciones señalan que serán entre dos y tres millones las personas que vivan ilegalmente en el país, para las cuales y debido a su condición, no parece vayan a gozar de buenas perspectivas pues, entre otras cosas, la dificultad para encontrar trabajo se va a ver acrecentada.

ACTIVIDAD: Recuerda y define los conceptos de emigración e inmigración, y discute en clase las causas que pueden motivar las corrientes migratorias. En este trabajo el mapa puede resultarnos de mucha utilidad a la hora de determinar las zonas de mayor y menor emigración e inmigración.

3. Colombia/Perú

Observa con atención los siguientes titulares referentes a acontecimientos del pasado mes de mayo en Colombia y Perú: «La poderosa mafia de la cocaína creó un sólido Estado paralelo dentro de Perú». «La crisis económica y el terrorismo motivan la dimisión del Gobierno peruano». «Descubierto en una hacienda colombiana un aeropuerto con capacidad para recibir jumbos». «La guerrilla colombiana secuestra a 16 personas para denunciar la guerra sucia».

Titulares como estos son el reflejo de una situación que diariamente está minando el desarrollo pacífico de estos países. En los desequilibrios políticos y económicos que asolan a los estados de América Central y Sudamérica, el problema del narcotráfico siempre aparece como telón de fondo, cuando no como factor principal. Las cifras que se barajan a la hora de tratar estos temas son sencillamente escalofriantes y no hacen sino dar una fría visión de un problema global que está afectando a millones de personas. Un repaso a la historia reciente de todos estos países tratando de descubrir y relacionar los factores determinantes de su situación actual puede ser una interesante actividad para desarrollar en la clase, y que te proporcionará una visión de conjunto de los problemas sudamericanos.

LA NOTICIA



4. Alemania/Austria

Dos acontecimientos de destacada relevancia política para sus respectivos países han tenido lugar en el mes de mayo en Austria y Alemania. Así, en el estado alemán de Schleswig - Holstein se celebraron las elecciones que darían la mayoría absoluta al Partido Socialdemócrata (SPD) con un 54,8 por ciento de los votos. Este triunfo ha constituido una gran victoria frente a la Unión Demócrata Cristiana (CDU) que había mantenido la hegemonía en este estado fronterizo con Dinamarca, y que se consideraba redacto del principal partido del Gobierno en Alemania Federal y que sólo pudo obtener un 33,3 por ciento de los votos.

Por su parte, en el congreso extraordinario del Partido Socialista de Austria (SPOE) celebrado en Viena, Franz Vranitzky, canciller federal, obtuvo con un 93,6 por ciento de los votos la presidencia del partido, lo que parece reafirmar el fin del turbulento periodo que desde hace cinco años vivía el mayoritario partido austriaco.

Aquí hemos señalado algunos datos que te orientarán para saber cuál es la composición política de estos países, pero ¿sabrás confeccionar un mapa que representase las formas de gobierno y los porcentajes de participación de los principales partidos de los países europeos?

5. Golfo Pérsico

El Golfo Pérsico no deja de estar de actualidad. Hace tan sólo 15 días volvía a la palestra con un suceso que no por novedoso, sino por afectar a un navío español, tuvo especial trascendencia en los periódicos: el hundimiento del petrolero «Barcelona» a manos de la aviación iraquí. El ataque, en el que resultaron dañados otros cuatro buques de diversas nacionalidades, eleva a casi medio millar el número de petroleros que han resultado dañados por ataques tanto de Irán como de Irak, en los últimos cuatro años. Evidentemente tanto la situación neurálgica del golfo, como el conflicto irano-iraquí y la trascendental importancia de esta zona en la producción y tráfico mundial de crudo caracterizan la actual situación de la región. No obstante la generalización indiscriminada de ataques a navíos de países neutrales ha llevado a los armadores perjudicados a plantearse la posibilidad de llevar a cabo, hasta las últimas consecuencias, las demandas de compensación contra Irán e Irak, si persisten en sus ataques a buques de países al margen del conflicto, a pesar de lo cual no parece posible una rápida solución a estos problemas.

Sirva de actividad realizar un trabajo sobre la importancia del petróleo como fuente de energía en la actualidad y sus posibles alternativas. Podéis completar el trabajo con un mapa representativo de las principales zonas productoras de crudo, así como las rutas y puntos neurálgicos de su tráfico. ¿Sabéis qué es la OPEP?, ¿qué funciones tiene y cuáles son sus objetivos? Seguro que puedes encontrar mucha información en las páginas económicas del periódico

— La proyección que aquí observas está centrada en los 0.^o de longitud y los 0.^o de latitud (Ecuador); aunque cualquier otro grado de longitud podría haber sido escogido como meridiano central. Observa que tanto este meridiano como el Ecuador y los paralelos son líneas rectas, mientras que todos los restantes meridianos son curvas sinusoidales, de lo cual deriva la denominación de esta representación. Por cierto, ¿sabes qué es una sinusoide?

6. China

Hablar de China es ante todo hablar de la grandeza de su antiquísima historia, y del progreso de una sorprendente civilización. Sin embargo, la actualidad de este país no es, ni con mucho, la de un país estandarte del progreso. No debemos olvidar que sólo con remontarnos a unas pocas décadas encontramos una nación con estructuras puramente feudales que sólo a partir de la «revolución cultural» comenzará a desprenderse de su estanca da realidad. No obstante y como consecuencia de sus peculiares características, desarrollará poco a poco sus potencialidades nada despreciables, y abordará los nuevos senderos que regirán sus destinos. Prueba de ello es, por ejemplo, el ambicioso plan de modernización científica cuyos resultados en el campo de la astronáutica están siendo muy positivos y tomados en consideración. Sirva también de ejemplo, por tomar algo no lejano en el tiempo, las nuevas directrices que surgieron de la VII Asamblea Nacional Popular entre la que destaca la legalización del sector privado «como complemento para la economía pública», pues la participación de la producción de las empresas privadas al PIB es mínima. Por otra parte, y también en el marco de la Asamblea Nacional se decidió legalizar las transferencias de terrenos, aun cuando la venta y alquiler no goce del mismo régimen. En definitiva, son muchos los aspectos de la vida social, económica, política e incluso cultural que están experimentando ya un proceso de reforma y modernización, aunque no pocos son los que quedan por afrontar.

Como actividad para realizar en clase, podéis comparar la situación de China en el contexto mundial hace 50 años, con su participación en la actualidad, y discutir aquellos aspectos que creéis son determinantes en cada caso.

GUIA DEL PROFESOR

«El mapa y la noticia»

Reconocer la noticia: «Sitios»

La palabra «sitios» responde al adverbio de lugar «¿dónde?». Busca, por tanto, el espacio donde se sitúan las noticias y lo que puede llamarse geografía de lo sucedido. A veces, aunque no siempre, la geografía es muy importante para la noticia: existen acontecimientos que sólo pueden suceder en un sitio determinado, tales como por ejemplo la erupción de un volcán; otros acontecimientos, en cambio, pueden suceder en un sitio determinado, tales como por ejemplo la erupción de un volcán; otros acontecimientos, en cambio, pueden

sucedir en muchos sitios, pero pueden agravarse si suceden en sitios determinados, por ejemplo, no es lo mismo una sequía de unos meses en una zona desértica y pobre en alimentos que en una a la que puede llevarse el agua. Y existen también geografías que, por sí mismas, condicionan ya o favorecen el que aparezcan ciertas noticias: el tipo de vivienda, la situación geográfica de una nación, la raza, el tipo de producción y otros. El «sitio», por tanto, es una palabra-clave en el reconocimiento de la noticia.

ACTIVIDADES

1. «Sitios con títulos»

Recorre todos los títulos y subtítulos de un periódico y anota todos los nombres de «sitios» que salgan escritos expresamente o a los que se refiera claramente el texto.

—Después, puedes hacer diversas variantes: un collage, poniendo todos los nombres sobre un tablero, de manera que se lean todos.

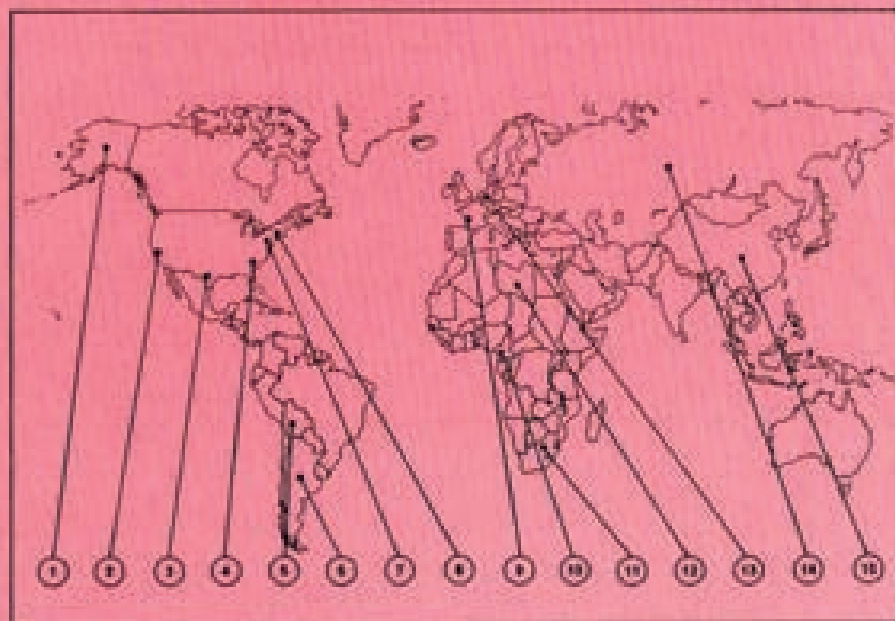
—Otra variante: colocad en tarjetas cada nombre de sitio y metedlas en una bolsa. Cada alumno de la clase o del grupo puede coger a suertes una tarjeta con un sitio y hablar durante un minuto de por qué ha salido en el periódico ese sitio. Puede dársele un tiempo de preparación para que busque en el periódico esa noticia, indicándole previamente en la tarjeta la fecha en que salió.

—Una tercera variante: tener un mupamundi, mapas de continentes, de naciones, planos de ciudad, autonomías; y, según sea la noticia, clavar una banderita en el sitio correspondiente, con un número. Luego, a pie de mapa, dar la explicación de la noticia.

2. «Sitios con fotos»

—Son las fotos u otro tipo de gráficos que salen en el periódico y que pueden ser trasladados a un rollo de papel continuo puesto sobre la pared con el título: «sitios de la semana».

—Al pie de cada foto, puedes indicar por qué ese sitio es noticia; y, si ha resultado muy importante, ampliar las fotos con las que suelen salir luego en los semanarios, en colores, que le dan un tratamiento especial.



3. «Sitios con textos»

—Muchas veces los sitios son ya tan famosos o se hacen de repente interesantes con la noticia que el mismo periódico les dedica un reportaje o informe especial. Es necesario guardar cuidadosamente estos datos, puestos incluso en forma de ficha, ya que suelen aportar informaciones nuevas que no suelen estar ni en las enciclopedias más recientes.

—Otras veces habrá que sacar los datos de la lectura continua de los textos de la noticia, buscando en el reportaje todo lo que suene a «sitio». Después, con la ayuda de un atlas o de una enciclopedia,

recoger lo más importante y hacer una ficha sobre ello.

4. «Sitios con estadística»

—Hay sitios que, de tanto salir, constituyen por sí mismos una cumbre en la estadística general de sitios. Y hay otros sitios que apenas aparecen.

—Recorred los periódicos durante un mes, anotando el sitio, la fecha y por qué salió. Poned luego a gráficos la estadística: curvas, gráficos, barras, sectores, colores.

—Comparad periódicos regionales, locales y nacionales respecto a «sitios».